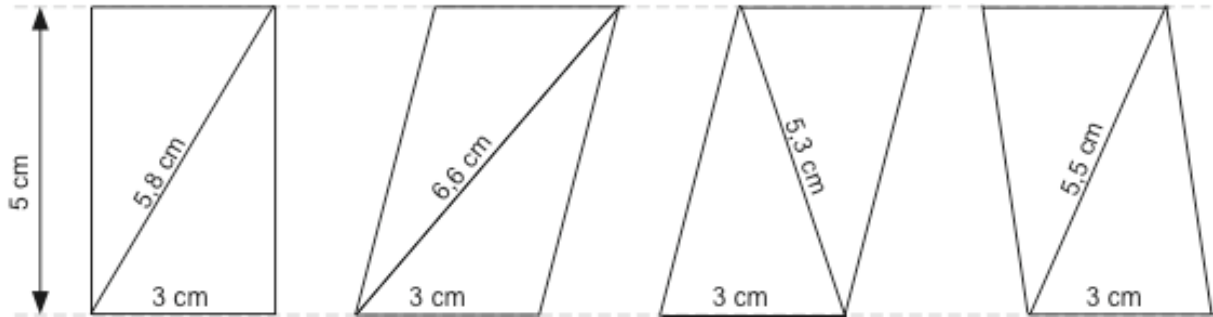


## Quelle est l'aire des figures?



Aire du rectangle :

parallélogramme :

parallélogramme :

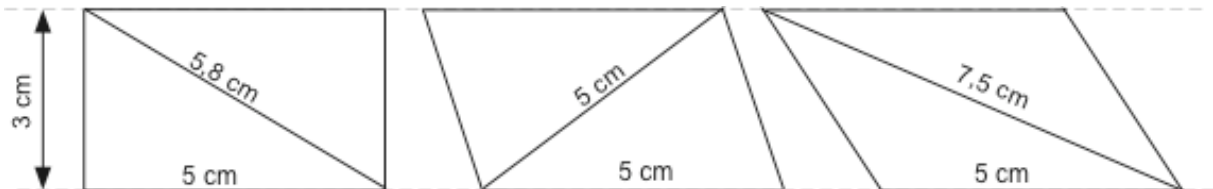
parallélogramme :

Aire d'un triangle :

un triangle :

un triangle :

un triangle :



Aire du rectangle :

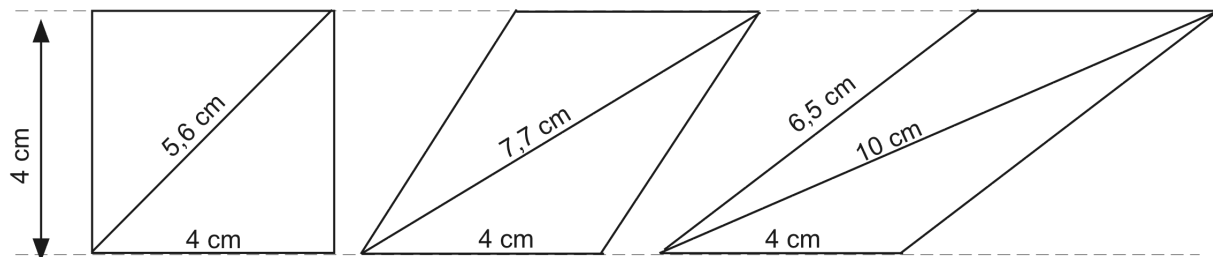
Aire du parallélogramme :

Aire du parallélogramme :

Aire d'un triangle :

Aire d'un triangle :

Aire d'un triangle :



Aire du carré :

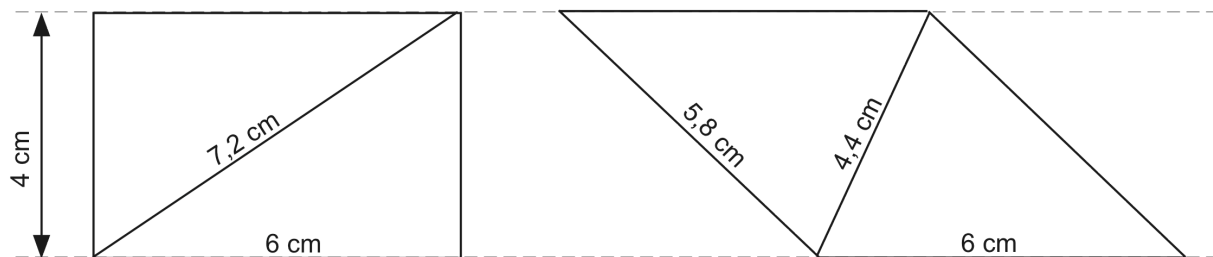
Aire du parallélogramme :

Aire du parallélogramme :

Aire d'un triangle :

Aire d'un triangle :

Aire d'un triangle :



Aire du rectangle :

Aire du parallélogramme :

Aire d'un triangle :

Aire d'un triangle :